

ПРОПИСИ

Мир детства 5.

Математические

4 3 2 1 0

5

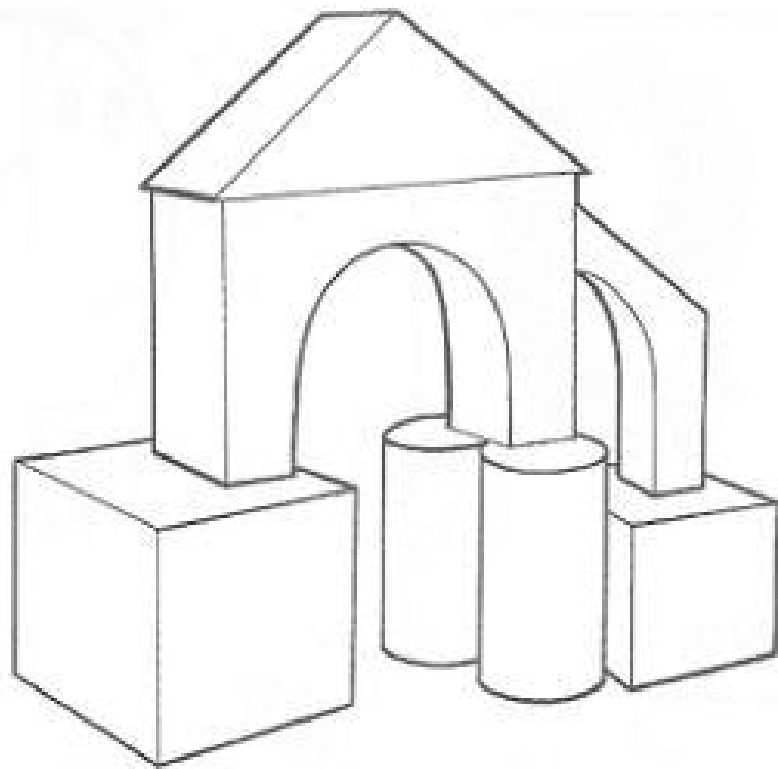
6

7

8



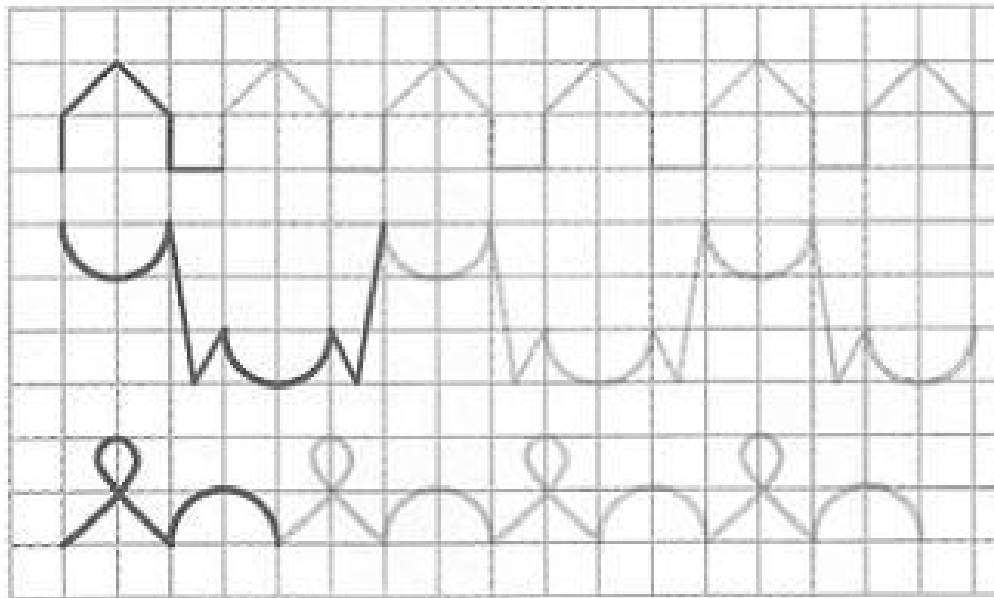
изучаем состав числа







Выбери гири, чтобы уравновесить весы

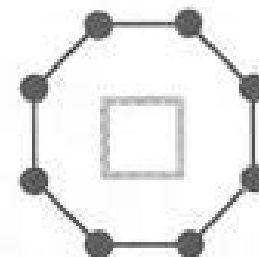
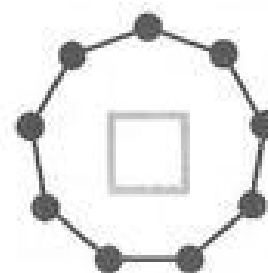

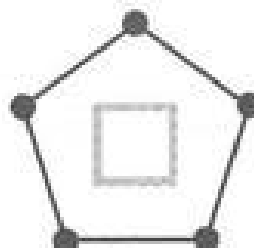
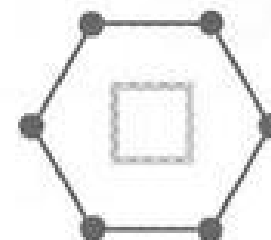
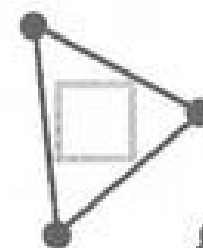
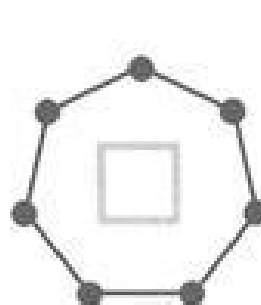








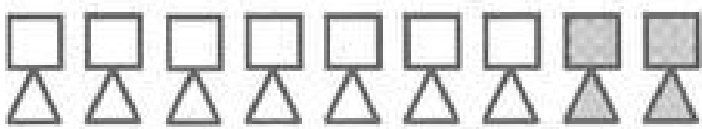
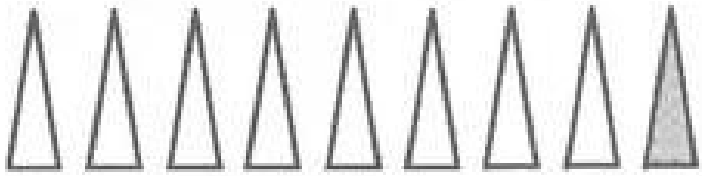

Продолжи строчку





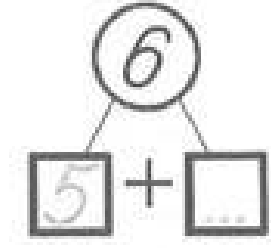
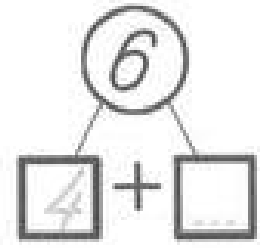
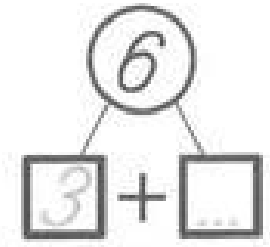
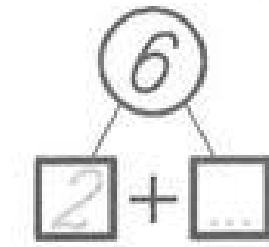
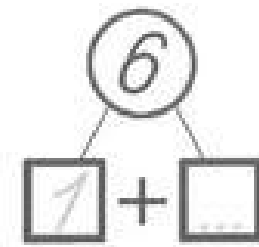
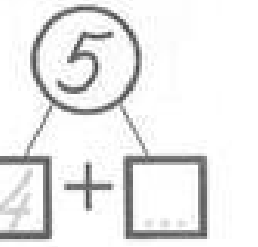
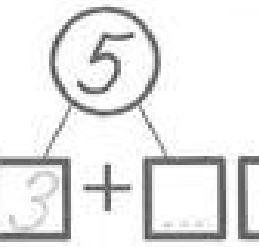
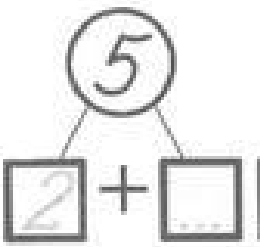
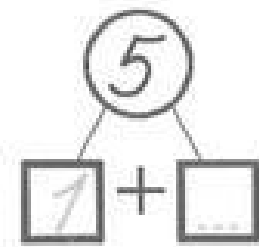
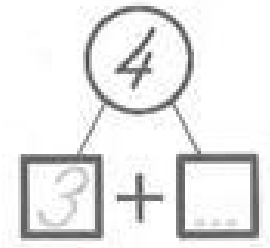
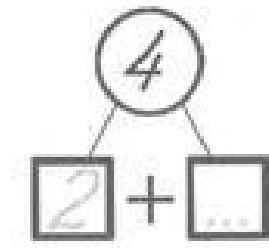
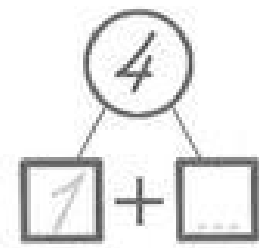
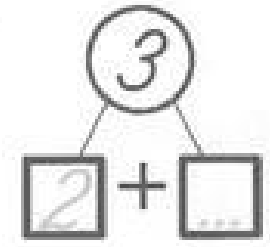
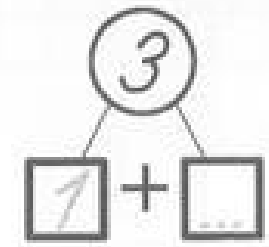

Посмотри на фигуры и впиши числа в клеточки





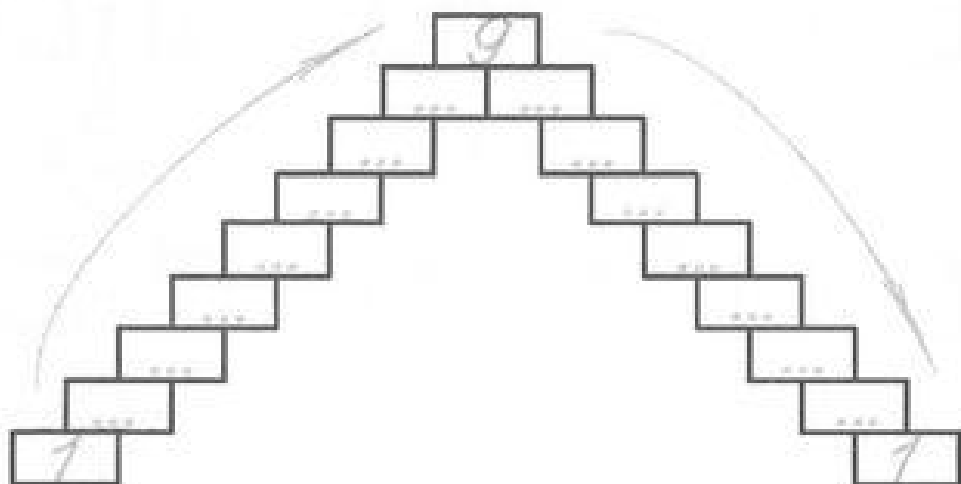
-	...	=
-	...	=
-	...	=
-	...	=
-	...	=
-	...	=
-	...	=
-	...	=
-	...	=
-	...	=

Впиши в клеточки состав числа

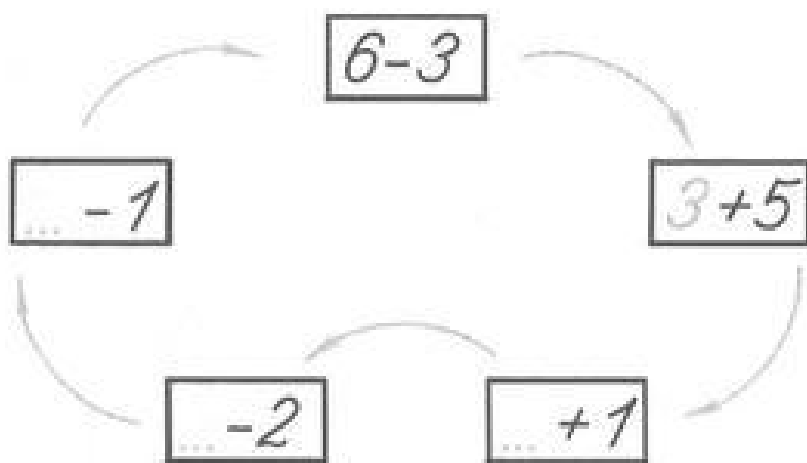


9	9	9	9																

Прямой и обратный счёт



Реши круговые примеры, в которых первая цифра равна ответу на предыдущий пример



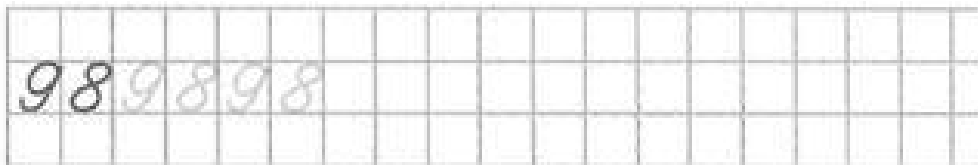
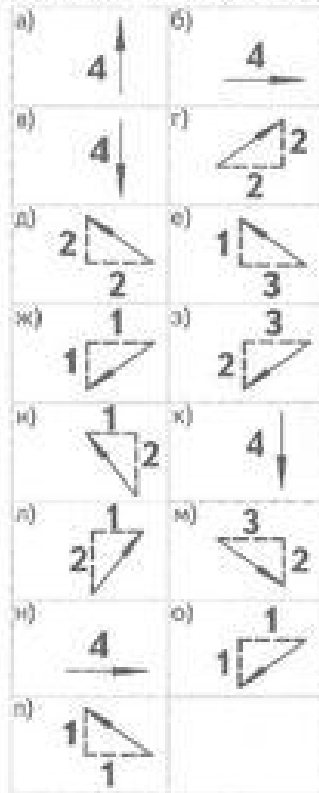
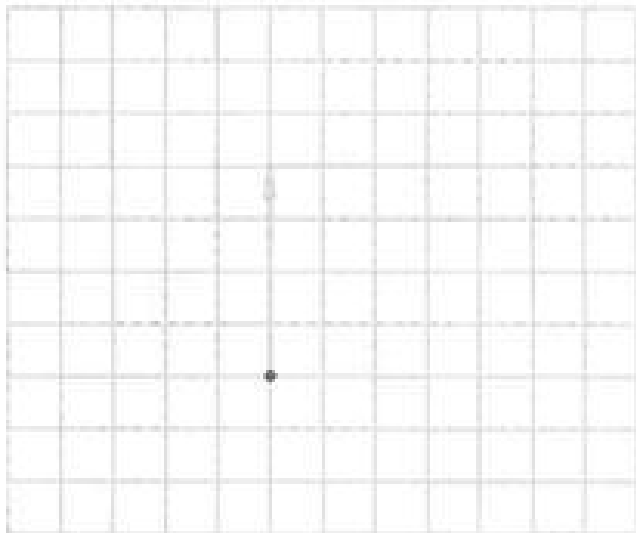
Впиши в клеточки состав числа

$\begin{array}{c} \textcircled{7} \\ \diagdown \quad \diagup \\ \boxed{1} + \boxed{\dots} \end{array}$	$\begin{array}{c} \textcircled{7} \\ \diagdown \quad \diagup \\ \boxed{2} + \boxed{\dots} \end{array}$	$\begin{array}{c} \textcircled{7} \\ \diagdown \quad \diagup \\ \boxed{3} + \boxed{\dots} \end{array}$
$\begin{array}{c} \textcircled{7} \\ \diagdown \quad \diagup \\ \boxed{4} + \boxed{\dots} \end{array}$	$\begin{array}{c} \textcircled{7} \\ \diagdown \quad \diagup \\ \boxed{5} + \boxed{\dots} \end{array}$	$\begin{array}{c} \textcircled{7} \\ \diagdown \quad \diagup \\ \boxed{6} + \boxed{\dots} \end{array}$
$\begin{array}{c} \textcircled{8} \\ \diagdown \quad \diagup \\ \boxed{1} + \boxed{\dots} \end{array}$	$\begin{array}{c} \textcircled{8} \\ \diagdown \quad \diagup \\ \boxed{2} + \boxed{\dots} \end{array}$	$\begin{array}{c} \textcircled{8} \\ \diagdown \quad \diagup \\ \boxed{3} + \boxed{\dots} \end{array}$
$\begin{array}{c} \textcircled{8} \\ \diagdown \quad \diagup \\ \boxed{4} + \boxed{\dots} \end{array}$	$\begin{array}{c} \textcircled{8} \\ \diagdown \quad \diagup \\ \boxed{5} + \boxed{\dots} \end{array}$	$\begin{array}{c} \textcircled{8} \\ \diagdown \quad \diagup \\ \boxed{6} + \boxed{\dots} \end{array}$
	$\begin{array}{c} \textcircled{8} \\ \diagdown \quad \diagup \\ \boxed{7} + \boxed{\dots} \end{array}$	

Напиши пропущенные номера домов, считая двойками



Нарисуй рисунок, считая клеточки от точки по заданным условиям

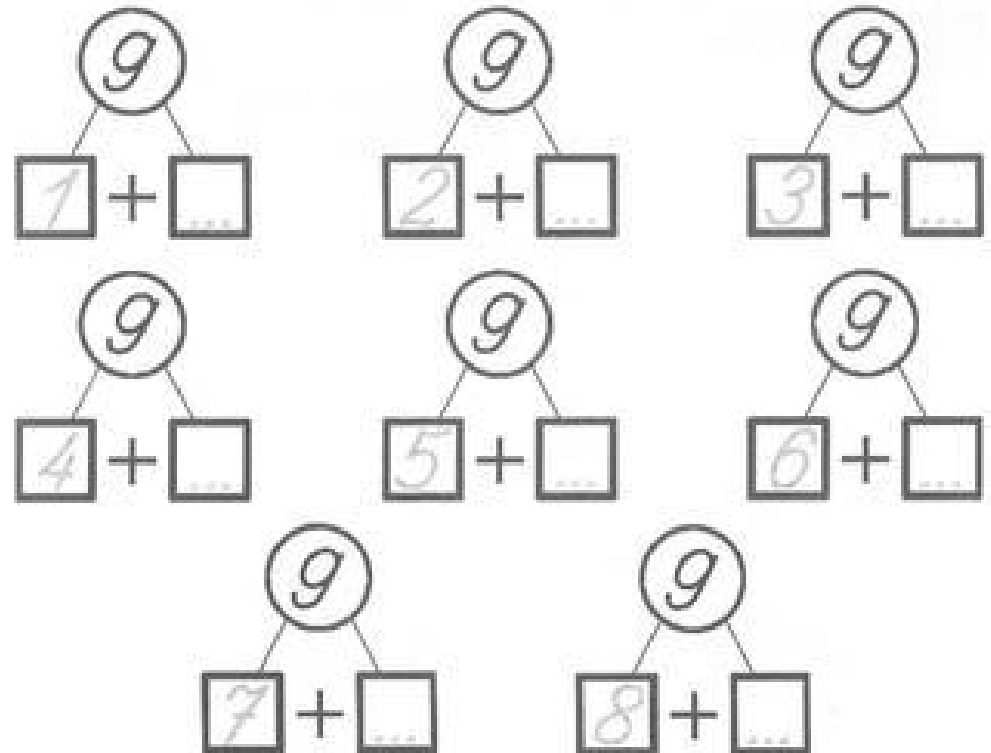


Подумай и впиши пропущенные цифры

5	+	...	=	8
-		+		-
...	-	2	=	...
=		=		=
...	+	...	=	6

...	+	1	=	...
-		...		-
5	-	...	=	4
=		=		=
2	+	...	=	...

Впиши в клеточки состав числа



Реши примеры и запиши решения

$\dots + \dots = 9$	$9 - \dots = \dots$
$\dots + \dots = 9$	$9 - \dots = \dots$
$\dots + \dots = 9$	$9 - \dots = \dots$
$\dots + \dots = 9$	$9 - \dots = \dots$
$\dots + \dots = 9$	$9 - \dots = \dots$
$\dots + \dots = 9$	$9 - \dots = \dots$
$\dots + \dots = 9$	$9 - \dots = \dots$
$\dots + \dots = 9$	$9 - \dots = \dots$
$\dots + \dots = 9$	$9 - \dots = \dots$
$\dots + \dots = 9$	$9 - \dots = \dots$








8	6	4	2	8	6	4	2	8	6	4	2								
---	---	---	---	---	---	---	---	---	---	---	---	--	--	--	--	--	--	--	--

Заполни таблицу по образцу

1	3	5	7	9






5	3						

Реши примеры и запиши решения

$\dots + \dots = 8$		$8 - \dots = \dots$
$\dots + \dots = 8$		$8 - \dots = \dots$
$\dots + \dots = 8$		$8 - \dots = \dots$
$\dots + \dots = 8$		$8 - \dots = \dots$
$\dots + \dots = 8$		$8 - \dots = \dots$
$\dots + \dots = 8$		$8 - \dots = \dots$
$\dots + \dots = 8$		$8 - \dots = \dots$

8	6	4	2	8	6	4	2	8	6	4	2				
---	---	---	---	---	---	---	---	---	---	---	---	--	--	--	--

Сколько?

				
	2			





Реши примеры и запиши решения


$\dots + \dots = 7$  $7 - \dots = \dots$

$\dots + \dots = 7$  $7 - \dots = \dots$




$\dots + \dots = 7$  $7 - \dots = \dots$

$\dots + \dots = 7$  $7 - \dots = \dots$

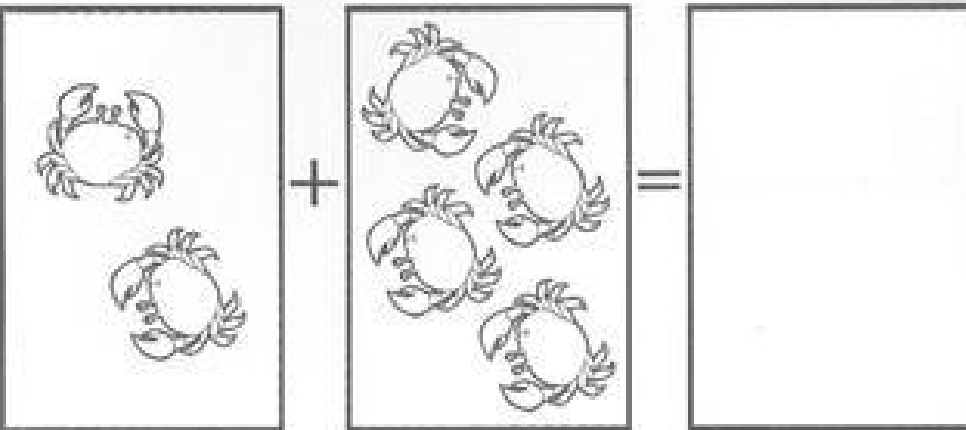
$\dots + \dots = 7$  $7 - \dots = \dots$

$\dots + \dots = 7$  $7 - \dots = \dots$

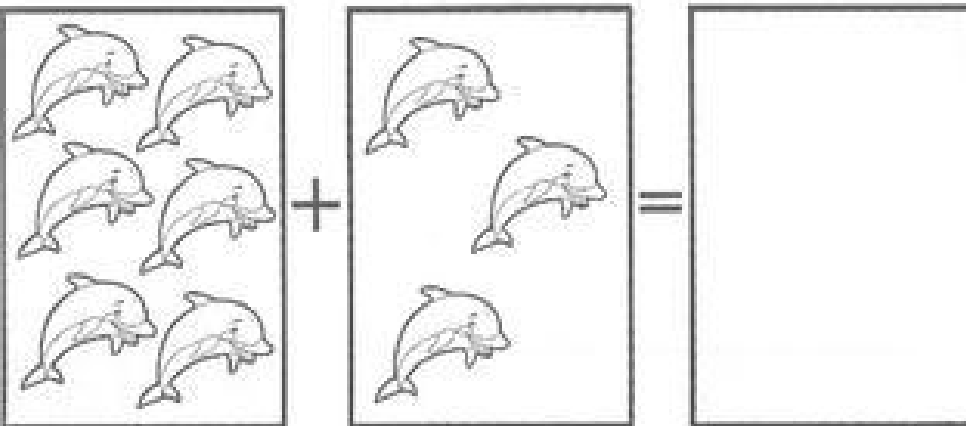
Дорисуй недостающие предметы или зачеркни лишние

7	
4	
6	

Реши задачи и запиши решения



$\dots + \dots = \dots$



$\dots + \dots = \dots$

9	7	5	3	9	7	5	3	9	7	5	3				
---	---	---	---	---	---	---	---	---	---	---	---	--	--	--	--